

La soustraction


1 Visionne l'épisode 3 « L'épave ».



[drive.google.com/
MathMathews_episode03](https://drive.google.com/MathMathews_episode03)

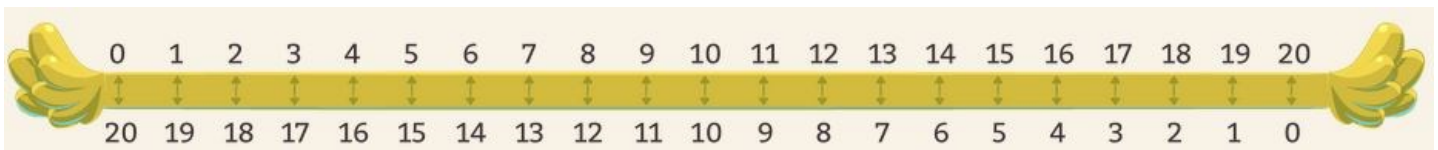
2 Lis le petit mot du capitaine Mathews.

Ce que tu dois retenir dans cet épisode, c'est la nécessité de bien connaître ses tables de soustractions... Ce n'est pas si compliqué ! Nous devons effectuer des soustractions simples pour ouvrir le coffre, et donc enlever un nombre au nombre de départ qui était 20.



Par exemple, pour commencer, nous devons enlever 8 au nombre 20. Combien reste-t-il dans ce cas ? Il reste 12 car $20 - 8 = 12$!

Tu peux t'aider de cette règle numérique : la somme du nombre du haut et du nombre du bas est 20 !




3 À toi de travailler maintenant. Fais les 4 exercices sur la soustraction. Tu peux poser les opérations !

Ex. ① Les prix des jouets

Observe l'affiche sur la vitrine de la boutique. Elle indique qu'il y a 15 € de réduction sur tous les jouets.

Calcule le prix des jouets après réduction.



Ex. ② Les départementaux

Lucie et Kofi apprennent les départements français. Lucie en connaît 85. Kofi se rend compte qu'il connaît 17 départements de moins que Lucie.

Combien Kofi connaît-il de départements ?



Ex. ③ Les choux

Grand-père a planté 55 choux dans son potager. Mais cette nuit, les lapins en ont dévoré quelques-uns. Il reste seulement 17 choux en entier.

Combien de choux les lapins ont-ils mangés ?



Ex. ④ Les tableaux du Louvre

Le Musée du Louvre vient d'acquérir 73 tableaux. 42 tableaux ont été achetés en Europe. Les autres tableaux viennent d'Afrique.

Combien de tableaux ont-ils été achetés en Afrique ?



Ex. ⑤ Les fruits du marché

Le propriétaire d'un verger a vendu 79 pommes et 73 poires au marché. Il lui reste 12 pommes et 25 poires.

Combien de fruits avait-il apporté au marché ?



Ex. ⑥ L'altitude des capitales du monde

Canberra (Australie) : 605 mètres
Moscou (Russie) : 144 mètres
Paris (France) : 35 mètres

Quel est la différence d'altitude entre :

- Canberra et Moscou ?
- Canberra et Paris ?
- Paris et Moscou ?



Moscou

Ex. ⑦ L'altitude des capitales du monde

Manon et Mathias ont commencé à apprendre le tennis. Manon a participé à 204 entraînements. Mathias, lui, n'a participé qu'à 48 entraînements.

Combien de séances d'entraînement Mathias a-t-il manquées ?

