

Géométrie	Décrire des figures géométriques	CP
-----------	----------------------------------	----

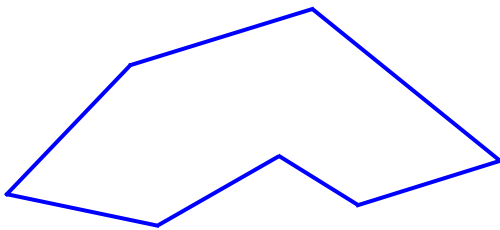
1 Légende la figure avec les trois mots des étiquettes.

sommet

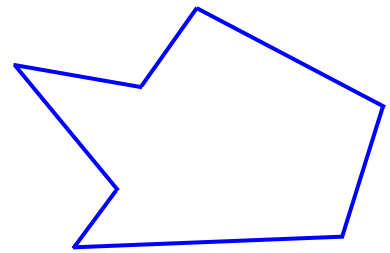
figure

côté

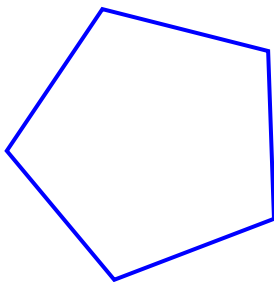
2 Place une croix sur chaque côté.



3 Place un point sur chaque sommet.



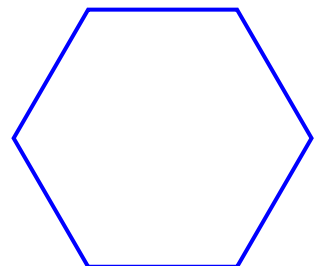
4 Compte le nombre de côtés et de sommets pour chaque figure.



..... côtés
..... sommets



..... côtés
..... sommets



..... côtés
..... sommets

